



## GUÍA Nº 6 DE EJERCICIOS DE MATEMÁTICA

### Orden y comparación de números



Profesor: Rocío Fonseca Ortega

Asignatura: Matemática

Curso: 3º básico

**Objetivo:**

Ordenan y comparan números menores de 1000.

Apellido Paterno: \_\_\_\_\_

Apellido Materno: \_\_\_\_\_

Nombres: \_\_\_\_\_

RUT: \_\_\_\_\_

1. Encierra con un círculo azul los números mayores que 150 y con un círculo rojo los números menores que 150:

145	65	178	56	132	169	89
200	160	110	138	10	28	152
146	134	99	167	77	123	45

2. Ponle precio a cada artículo según lo que se indica:



Trapero

\$

Entre 500 y 750



Basurero

\$

Entre 400 y 900



Arbolito

\$

Entre 800 y 1000



Cuaderno de papel reciclado

\$

Entre 400 y 600

3. Escribe un número según corresponda:

286 es menor que.....

846 es igual que.....

567 es mayor que.....

917 es menor que.....



4. Escribe dos números distintos que puedas formar con los siguientes dígitos. Luego ordénalos de mayor a menor:

2, 5 y 6

..... y .....

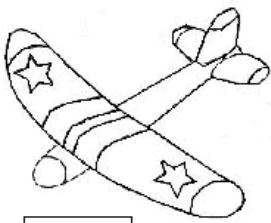
4, 7 y 8

..... y .....

..... > .....

..... > .....


5. En una fábrica de juguetes se muestran los siguientes objetos con su precio:



\$ 599




\$ 852



\$ 525



\$ 670



\$ 678



\$ 985

Ordena los precios de menor a mayor:

6. Ordena los precios de menor a mayor:

\$ 853

\$ 586

\$ 489

\$ 512



\$ 857

\$ 453

□ < □ < □ < □ < □ < □



7. Pinta al niño que tiene menos dinero:



8. Completa tal como se indica:

Escribe un número que esté antes de:



348



500



875

Escribe un número que esté después de:



469



779



587



Escribe un número que esté justo antes de:



695



128



456



Escribe un número que esté justo después de:



852



357



951



Escribe un número que esté entre:



499



501



253



268